



FICHA DE REFUERZO EDUCATIVO

CURSO: 1º

ÁREA: PLÁSTICA

PROFESOR/A: BLANCA ROMO

CONTENIDOS OBJETO DE ESTUDIO Y APRENDIZAJE:

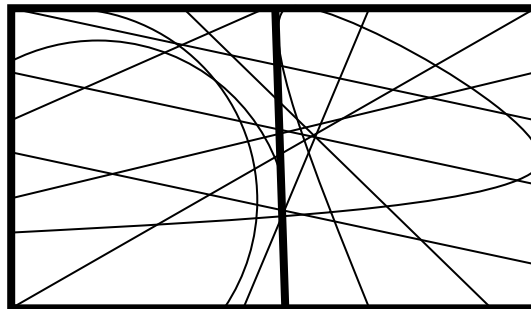
- ESTUDIAR RESÚMENES DE TODOS LOS TEMAS. EXAMEN TIPO TEXT.
- DE LOS TEMAS DE GEOMETRÍA EL EXAMEN SERÁ RESOLVIENDO EJERCICIOS DE DIBUJO TÉCNICO.

TAREAS Y TRABAJOS A PRESENTAR EN SEPTIEMBRE:

EDUCACIÓN PLÁSTICA

TRABAJO A REALIZAR PARA VERANO

- REALIZAR EN BLOCK DE DIBUJO:
 - **COLOR:** dividir la lámina en dos. una parte la pintamos de colores fríos y la otra de cálidos. tienes que sacar mínimo 14 colores de cada.





- **LA FORMA:** coge una taza de desayuno y dibújala bien centrada y con detalles. marca bien las luces y las sombras. puedes realizarlo con pinturas de colores o con lápiz.


- **LENGUAJE VISUAL:** busca imágenes en revistas con las siguientes finalidades:
 - **Finalidad informativa**
 - **Finalidad identificativa.**
 - **Finalidad indicativa.**
 - **Finalidad descriptiva.**
 - **Finalidad noticia.**
 - **Finalidad exhortativa**
 - **Finalidad recreativa**
 - **Finalidad estética.**

- **ELEMENTOS DE LA EXPRESIÓN PLÁSTICA:** Realizar una composición con los elementos básicos de la plástica; punto, línea, plano, textura y color. Dibujo libre.

-

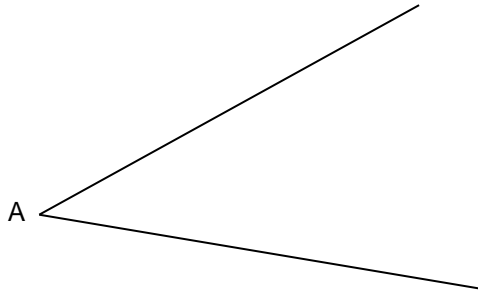
- **TRAZADOS GEOMÉTRICOS.** Realizar los siguientes ejercicios.

1. Traza la mediatriz de dicho segmento.








2. Halla la bisectriz del ángulo.



3. Traza una recta paralela a la dada. (Mediante compás y reglas)





4. Suma los siguientes segmentos:





5. Resta los siguientes segmentos:



6. Dibuja con compás los siguientes ángulos:

a. 30°

d. 15°


b. 45°

e. 120°

c. 60°

f. 90°

7. Divide este segmento en seis partes iguales.



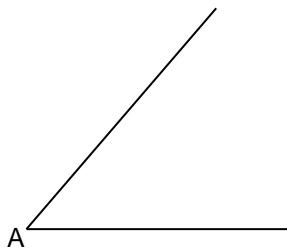


8. Traza la recta perpendicular a la dada desde el punto P. (trazado con regla y compás)

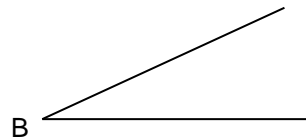
x P



9. Suma los siguientes ángulos.

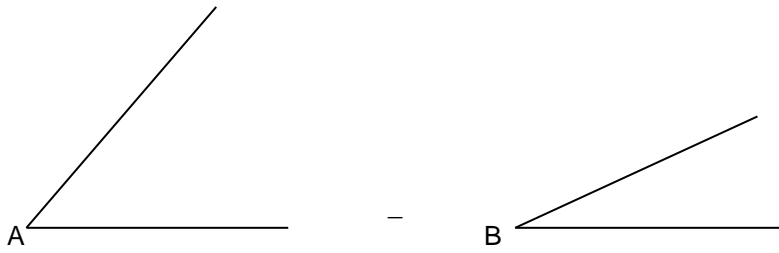


+





10. Resta los siguientes ángulos.



11. ¿Cuáles son los elementos de la circunferencia? Márcalos en una circunferencia de 3 cm de radio

X O

12. Traza una circunferencia que pase por estos tres puntos no alineados.

A x
x B
x C



**TRAER MATERIAL DE DIBUJO TÉCNICO: REGLAS , LÁPIZ, GOMA Y
COMPÁS**

Arévalo, 25 junio del 2019